

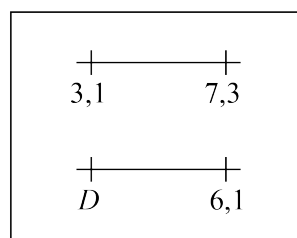
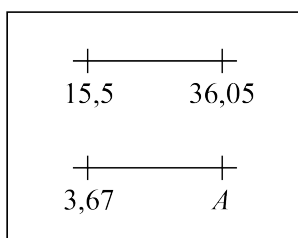
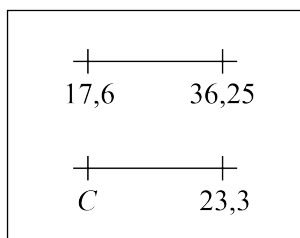
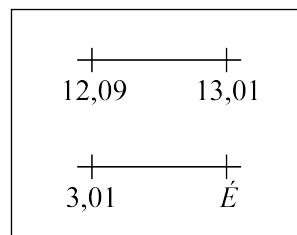
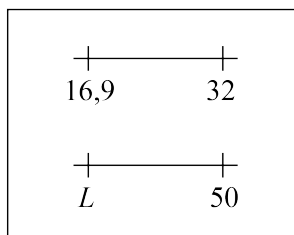
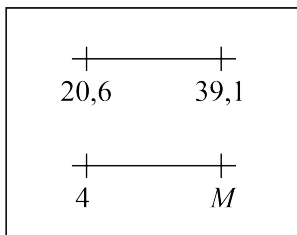
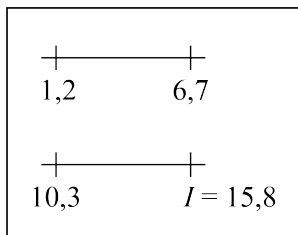


## Problème de la semaine

### Problème B

#### Lettres à la ligne

Détermine le nombre associé à chaque lettre pour que les deux droites numériques dans chaque cadre aient le même intervalle. On te présente un exemple avec la première lettre ci-dessous.



Ensuite, écris ces nombres en ordre croissant dans la première rangée du tableau ci-dessous. Dans la seconde rangée, écris les lettres correspondantes à ces nombres. Les lettres formeront un terme mathématique !

Nombres				15,8			
Lettres				<i>I</i>			